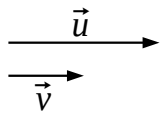


# VECTEURS 3 – COLINÉARITÉ

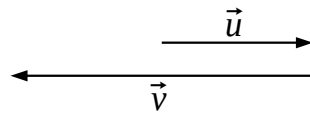
## I) COLINÉARITÉ DE DEUX VECTEURS

### 1) Intuitivement

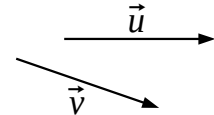
Exprimer  $\vec{u}$  en fonction de  $\vec{v}$  dans les cas suivants :



$$\vec{u} = \vec{v}$$



$$\vec{u} = -\vec{v}$$



$$\vec{u} = k\vec{v}$$

Ces exemples permettent de sentir intuitivement que :

- si  $\vec{u}$  et  $\vec{v}$  ont la même direction,
- si  $\vec{u}$  et  $\vec{v}$  n'ont pas la même direction,

### 2) Définition

On dit que  $\vec{u}$  est colinéaire à  $\vec{v}$  lorsqu'il existe un réel  $k$  tel que  $\vec{u} = k\vec{v}$ .

- $\vec{u}$  a alors la même direction que  $\vec{v}$ .
- Les coordonnées de  $\vec{u}$  sont proportionnelles à celles de  $\vec{v}$ .

### Remarques :

- Le vecteur nul est colinéaire à tout vecteur  $\vec{v}$  :  
car quelque soit  $\vec{v}$ , il suffit de choisir  $k = 0$   
En revanche, aucun vecteur non nul n'est colinéaire au vecteur nul :
- Dans le cas où  $\vec{u}$  et  $\vec{v}$  sont non nuls et où  $\vec{u}$  est colinéaire à  $\vec{v}$  :  
Le réel  $k$  tel que  $\vec{u} = k\vec{v}$  est alors non-nul,  
on peut donc écrire  $\vec{u} = k\vec{v}$   
On dit alors que «  $\vec{u}$  et  $\vec{v}$  sont colinéaires » (l'un à l'autre)

p149 : 120, 121, 122  
p154 : 163

p178 : 88

## II) DANS LES EXERCICES

### 1) Application

A, B, C et D étant distincts, on a :

- $\overrightarrow{AB}$  et  $\overrightarrow{CD}$  sont colinéaires  $\Leftrightarrow$
- $\overrightarrow{AB}$  et  $\overrightarrow{AC}$  sont colinéaires  $\Leftrightarrow$

### 2) Exemple

Dans un repère  $(O; \vec{i}; \vec{j})$ , on considère les points :

A(1 ; 2), B(4 ; 1), C(6 ; -1), D(0 ; 1) et E(3 ; 4/3).

1) Montrer que (AB) et (CD) sont parallèles.

2) Les points A, B et E sont-ils alignés ?

#### Rédaction :

1) Montrer que : (AB) // (CD).

Par hypothèse, A(1 ; 2) et B(4 ; 1) donc  $\overrightarrow{AB} \left( \begin{array}{c} \phantom{0} \\ \phantom{0} \end{array} \right)$

Par hypothèse, C(6 ; -1) et D(0 ; 1) donc  $\overrightarrow{CD} \left( \begin{array}{c} \phantom{0} \\ \phantom{0} \end{array} \right)$

On remarque que

donc  $\overrightarrow{AB}$  est colinéaire à  $\overrightarrow{CD}$

donc  $(AB) // (CD)$ .

2) A, B et E sont-ils alignés ?

On a  $\overrightarrow{AB} \left( \begin{array}{c} \phantom{0} \\ \phantom{0} \end{array} \right)$  et par hypothèse, A(1 ; 2) et E(3 ; 4/3) donc  $\overrightarrow{AE} \left( \begin{array}{c} \phantom{0} \\ \phantom{0} \end{array} \right)$

On remarque que

donc  $\overrightarrow{AB}$  est colinéaire à  $\overrightarrow{AE}$

donc  $A, B$  et  $E$  sont bien alignés.

p151 : 137, 144, 145

p152 : 150, 151

p153 : 153

### III) DÉTERMINANT DE 2 VECTEURS

Parfois, il n'est pas très facile de mettre en évidence le fait que deux vecteurs sont colinéaires. On peut alors calculer leur « déterminant ».

#### 1) Définition

On appelle « déterminant des vecteurs  $\vec{u} \begin{pmatrix} x \\ y \end{pmatrix}$  et  $\vec{v} \begin{pmatrix} x' \\ y' \end{pmatrix}$  » le réel noté :

$$\det(\vec{u}; \vec{v}) = \begin{vmatrix} x & x' \\ y & y' \end{vmatrix} = x y' - x' y$$

#### 2) Critère de colinéarité

Soit  $\vec{v}$  un vecteur non nul :

$$\vec{u} \text{ est colinéaire à } \vec{v} \Leftrightarrow \det(\vec{u}; \vec{v}) = 0$$

#### Démonstration :

Soit  $\vec{v}$  un vecteur non nul :

$$\begin{aligned} \vec{u} \begin{pmatrix} x \\ y \end{pmatrix} \text{ colinéaire à } \vec{v} \begin{pmatrix} x' \\ y' \end{pmatrix} &\Leftrightarrow \text{les coordonnées de } \vec{u} \text{ sont} \\ &\text{proportionnelles à celles de } \vec{v} \\ &\Leftrightarrow \begin{array}{c|c} x & x' \\ \hline y & y' \end{array} \text{ est un tableau de proportionnalité} \end{aligned}$$

p173 : 42, 44, 48, 49  
p176 : 67, 68, 69, 71, 76  
p177 : 78, 79, 81, 82  
p178 : 86  
p179 : 91

algo  
p177 : 77