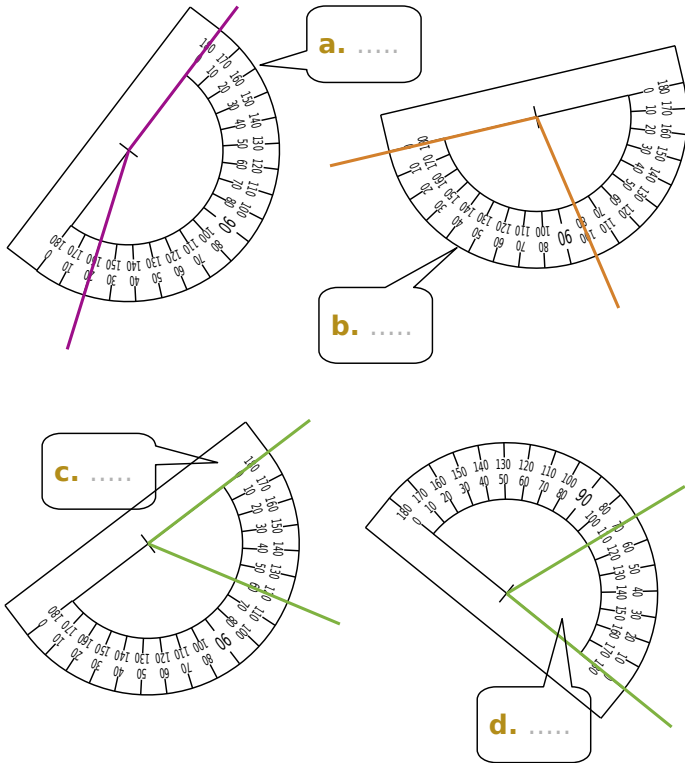
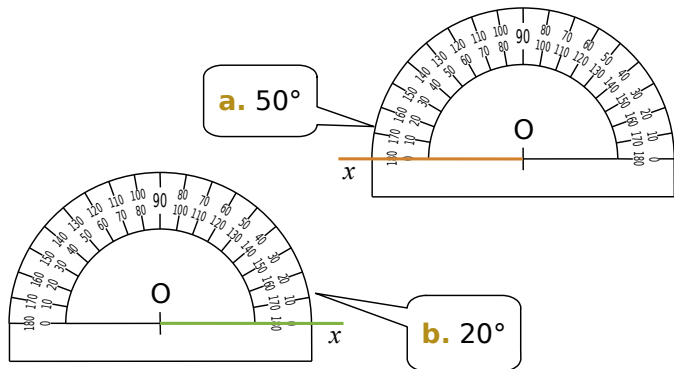


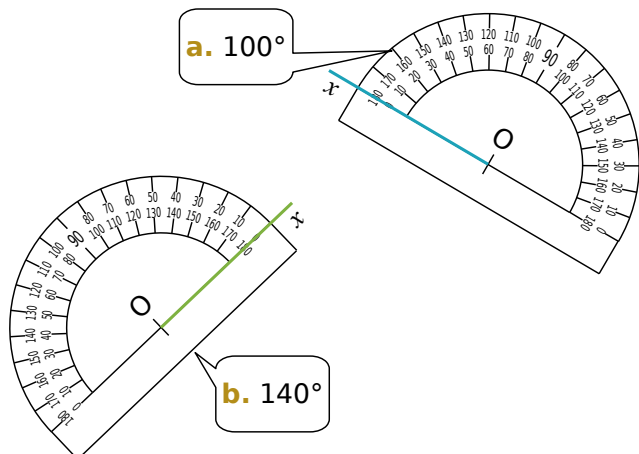
**1** Sur les figures ci-dessous, lis la mesure de chaque angle sur le rapporteur puis écris-la dans la bulle.



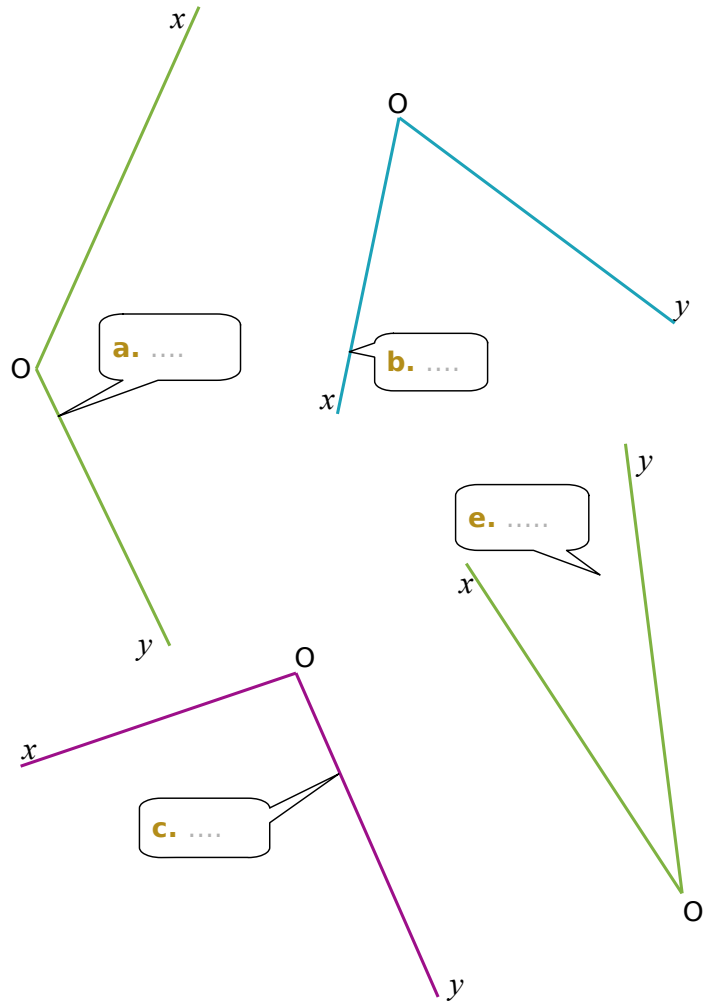
**2** Dans chaque cas, construis la demi-droite  $[Oy)$  telle que l'angle  $\widehat{xOy}$  ait la mesure indiquée.



**3** Dans chaque cas, construis la demi-droite  $[Oy)$  telle que l'angle  $\widehat{xOy}$  ait la mesure indiquée.



**4** À l'aide de ton rapporteur, mesure les angles suivants et écris tes réponses dans les bulles.



**5** A l'aide de ton rapporteur, construis, pour chaque cas, une demi-droite  $[Oy)$  telle que l'angle  $\widehat{xOy}$  ait la mesure indiquée.

